

下列關於台灣附近海域的敘述，何者正確？



01

太平洋位於台灣的西方

02

東海位於台灣的東方

03

南海位於台灣的西南方



台灣唯一不靠海的縣是下列哪一個？



苗栗縣



南投縣



屏東縣



依據聯合國海洋公約，劃定12浬
為何者，是國土的一部份？



領海



大陸棚



經濟海域



2013年5月「廣大興28號」漁船
遭菲律賓公務船機槍掃射，造成
台灣船員死亡。此次事件是基於
台菲雙方對哪一個海域的認知有
出入？



領海



經濟海域



大陸棚



下圖為台灣某地區海岸的航空照片，該海岸最適合發展的產業為下列何者？



曬鹽



養殖漁業



航運





下圖照片為台灣某處特色海岸，
最有可能在下列哪一段海岸所拍
攝？




淡水河口～楓港



楓港～旭海



三貂角～淡水河口



關於台灣金門烈嶼、馬祖列嶼的成因，下列哪一個敘述正確？



01


海底火山及其噴發的堆積物，露出海面所形成

02

海平面上升或陸地下沉

03

由珊瑚礁所構成



下列哪一組國家公園，其保育範圍皆有涵蓋至海洋？



01

陽明山、雪霸、墾丁

02

東沙環礁、澎湖四島南方、墾丁

03

金門、台江、玉山





關於台灣海岸線後退的問題，下列哪一項做法可以涵養沙灘，達到保育海岸的目的？

01

興建離岸堤



02

河川上游開採砂石

03

發展養殖漁業

下列哪一項河流地形會發育在海岸處？



峽谷



沖積扇



三角洲



中國三大緣海，由北而南排序應為下列何者？



01

黃海、東海、南海



02

東海、黃海、南海

03

南海、東海、黃海

若河川注入終點為海洋，稱為外流河。雅魯藏布江最終注入哪一個海域？



太平洋



大西洋



印度洋



中國夏季季風自海上吹往陸地，
可為中國帶來降水，其水氣發源
的海域，下列何者為非？



太平洋



大西洋



印度洋

中國年雨量空間分布不均（如附圖），除了季風和地形影響之外，還受到何者的影響？



01

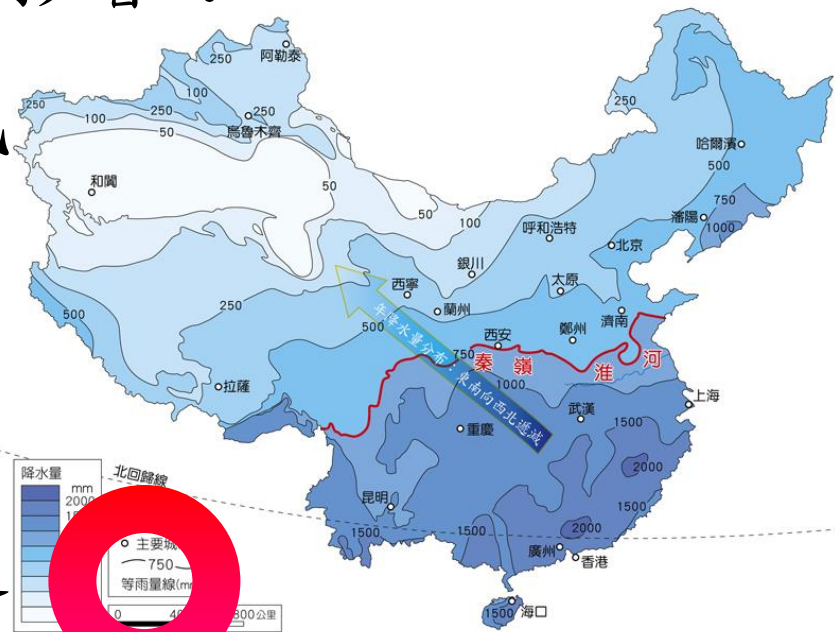
緯度高低

02

洋流性質

03

距海遠近






中國在南海海域劃分南中國海，擴增領海及經濟海域，國向國際海洋法法庭提出質疑，法庭拒絕了中國的訴求，支持國的劃分。請問文章中的國最有可能為何？



日本



菲律賓



緬甸



中國於2013年提出「21世紀海上絲綢之路」，簡稱「一路」。主要是發展中國和東南亞、南亞、中東、北非及歐洲各國的經濟合作。下列哪個國家在此「一路經濟體」內？



印度



哈薩克



俄羅斯

台灣在地理環境上有利於捕撈漁業發展，下列何者為不是台灣漁業興盛的原因？

01


四面環海

02

大陸棚廣大

03

無寒暖流交會



水運包含河運及海運。關於水運的優缺點，下列敘述何者正確？



運費高



運量大




速度快



水運包含河運和海運。台灣海運較河運發達，其原因不包括下列何者？

01

台灣河川流量變化小



02

台灣河川坡陡流急

03

台灣河川長度較短

台灣產值最高的漁業為下列哪一項？



01

養殖漁業

02

近海漁業

03

遠洋漁業



下列何者為向外相通連的海洋？



01


鹹海

02

裏海

03

黑海



某國的硬幣圖案設計多為海洋生物（如圖）。最有可能為下列哪個國家的硬幣？



冰島



瑞士



盧森堡

參考比例尺
10mm 20mm


附圖為紀念15至16世紀航海時代的一個紀念碑，此碑最有可能位於哪一個國家？



西班牙



葡萄牙



荷蘭






若小明欲研究石油的分布，下列哪一組的水域，可能是他研究的對象？

01

北海、裏海、波斯灣



02

地中海、死海、波羅的海

03

黑海、紅海、北海

鹹海面積縮小後，會造成的下列哪一項環境問題？




魚類增加



穀物增加



沙塵暴增加



挪威北部港口亨墨菲斯位於北極圈內，但終年不結冰，其原因為下列哪一條洋流經過？



黑潮



阿拉斯加暖流



北大西洋暖流




俄羅斯雖然面積較大，但國內水運卻較差，其原因為何？



缺乏綿長海岸線



河川流向不佳



距海遙遠

全世界的沿海地區並非皆濕潤多雨，
如納米比沙漠即位在海邊（如圖）。
究其原因應為下列何者？



地處高緯



山脈阻擋



涼流經過



中國投資巴基斯坦興建瓜達爾港正式開幕。中國自波斯灣進口石油可從此處輸入，降低運費，也降低對□海峽的依賴，請問□海峽應為下列何者？



麻六甲海峽

英吉利海峽

直布羅陀海峽



巴基斯坦瓜達爾港位置圖



下列關於水半球的敘述，何者
正確？



01

水半球中心為法國

02

水半球海洋比例依然
低於陸地

03

此半球國家對外聯繫不

易